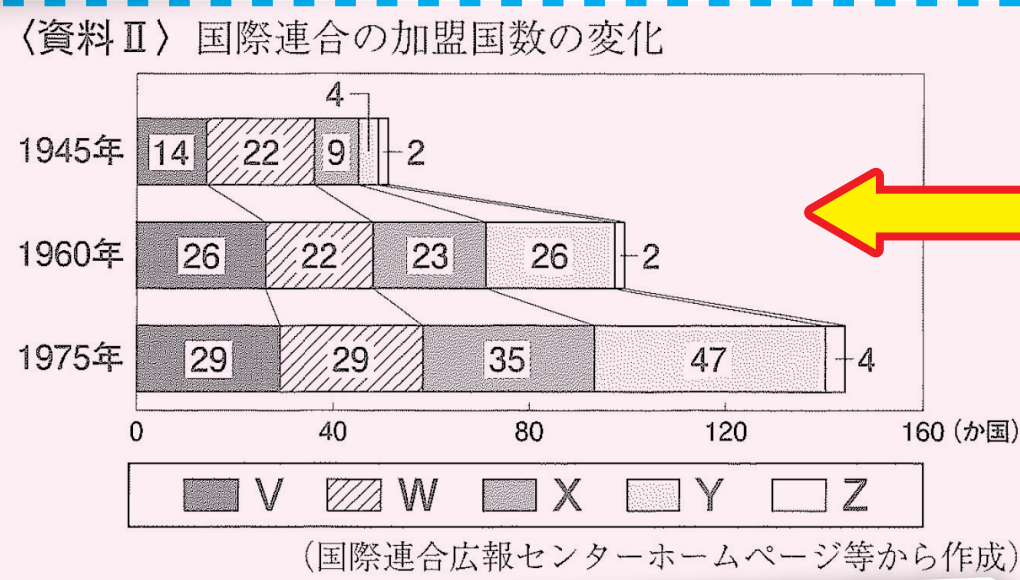


2022年 福岡県立高入試 社会でズバリの中 続出! その①

入試出題文章と英進館教材・テストでの出題内容の一致!!

2022年 福岡県公立入試

問4 下線部④について、資料ⅡのV～Zは、アジア州、アフリカ州、オセアニア州、南北アメリカ州、ヨーロッパ州（旧ソ連を含む）のいずれかを示している。アフリカ州にあてはまるものを一つ選び、記号を書け。また、資料Ⅱのようにアフリカ州の国際連合の加盟国数が変化した主な理由を書け。



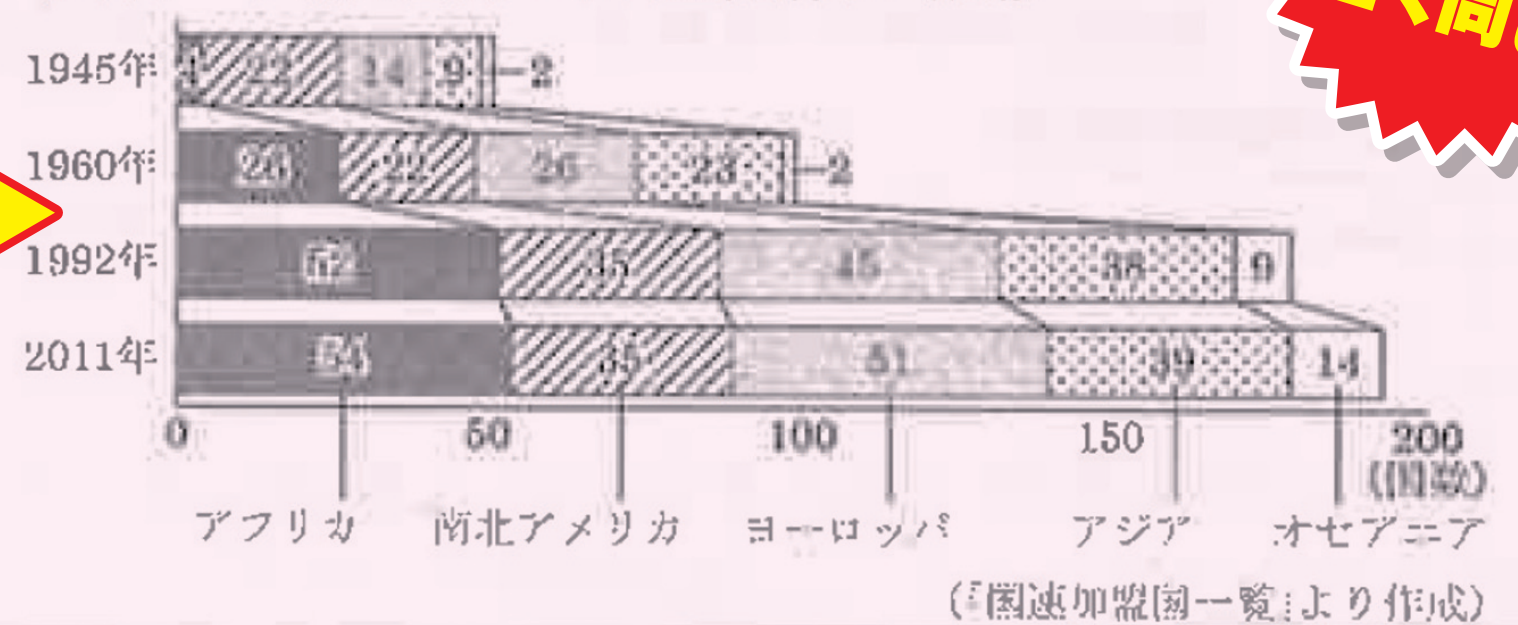
国際連合に関する出題。
1945～60年の間にアフリカ州の加盟国数が増加した理由を解答する記述問題がズバリの中!

2022年1月27日or28日実施 中3TS・授業後の宿題

(1) 文章中の [A] に当てはまる内容を、「植民地」という語句を使って、簡潔に書きなさい。

世界平和の維持を最大の目的とする国際連合の加盟国数は次第増加してきた。1945～1960年の間にアフリカで加盟国数が増えたのは [A] ためである。また、1960～1992年の間にヨーロッパの加盟国数が増えた理由の一つは、1991年にソ連が解体したためである。

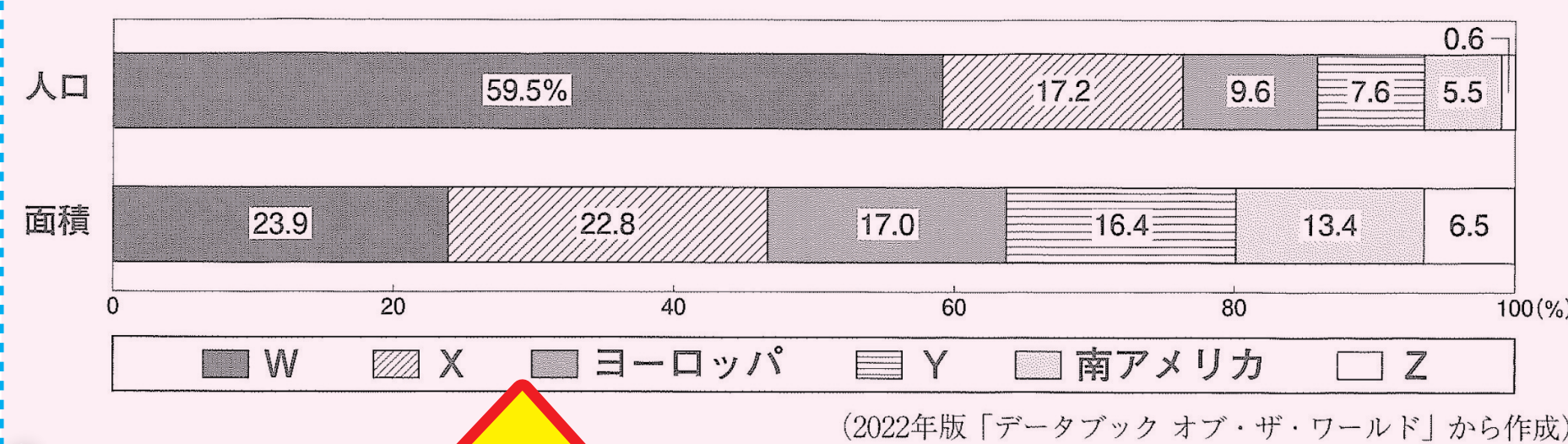
資料 国際連合の加盟国数の推移



グラフも全く同じ!

問2 資料ⅠのW～Zには、a～fの州のうちヨーロッパ州と南アメリカ州以外の州があてはまる。bの州にあてはまるものを、W～Zから一つ選び、記号を書け。

資料Ⅰ 人口、面積の州別の割合 (2020年)

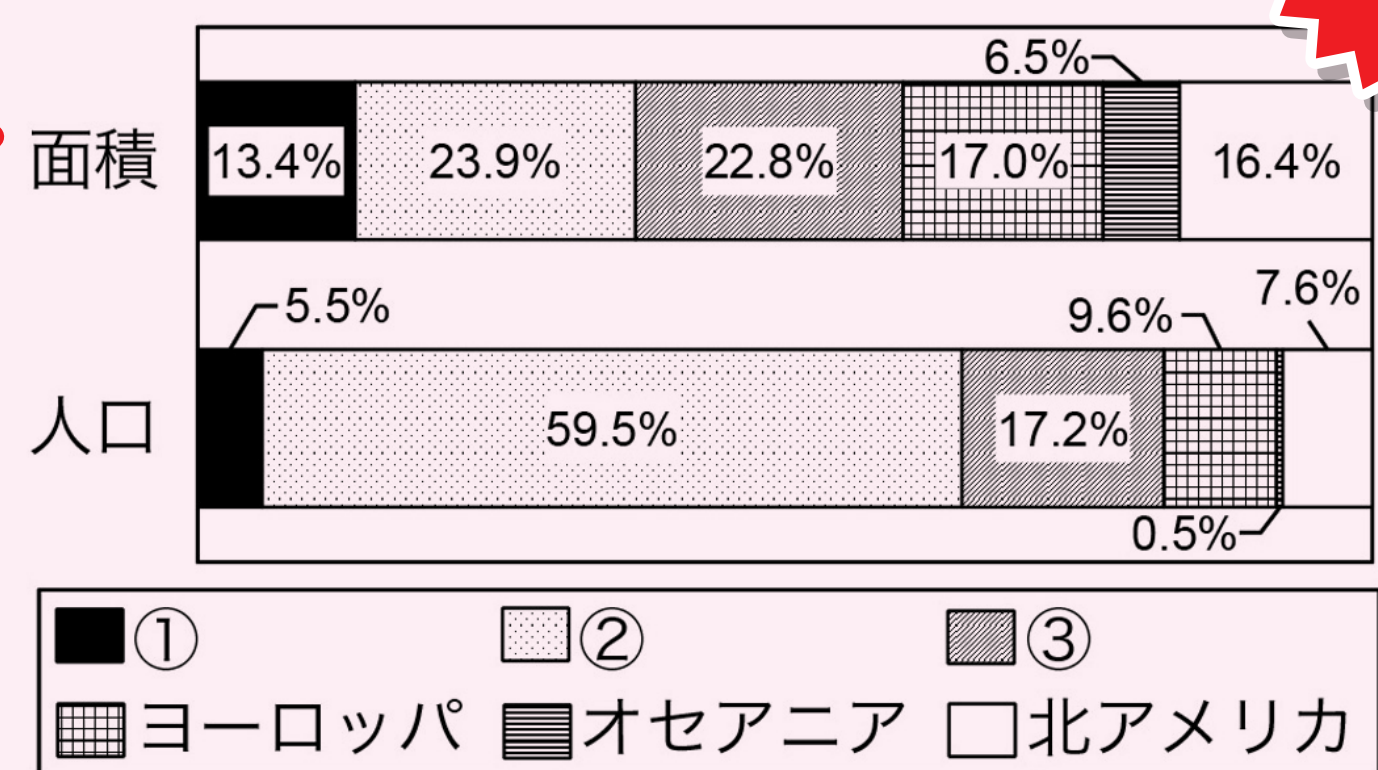


世界の州別の人口、面積の割合を示す資料を見て、各州名を判断する問題でズバリの中!

2022年1月23日実施 大予想! 模試

問3 資料Ⅰの①～③は、アフリカ州、南アメリカ州、アジア州のいずれかを示している。①～③を、日本から真西に進み、地球を一周するときに通過する州の順に並べ替え、番号を書け。

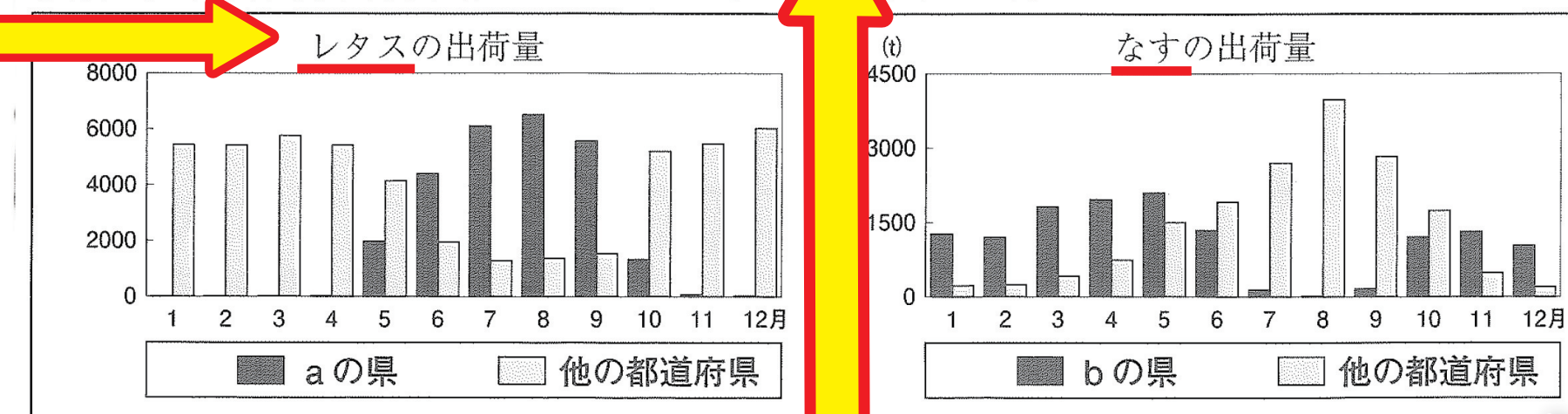
資料Ⅰ 州別の面積と人口の割合



グラフの数値もほぼ同じ!

(2) 略地図のa, bの県に共通する出荷時期の特色を、資料Ⅳから読み取って書け。

資料Ⅳ 東京都中央卸売市場へのレタスとなすの出荷量 (2019年)

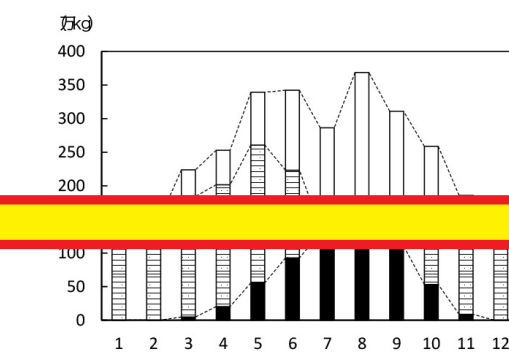


促成栽培、高冷地農業、それぞれの単なる特徴ではなく、「共通する特徴」を答えさせている問題でズバリの中!

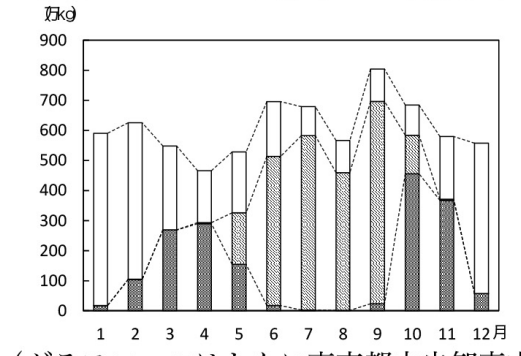
2021年11月7日実施 公立高校合格判定模試

問6 下の [] は、図12・13中のY県・Z県の農業についてまとめたものです。文中の() にあてはまる番号を①・②から1つ選び、番号で答えなさい。また、[] にあてはまる内容を書きなさい。

グラフ16 (1)の取扱量



グラフ17 (2)の取扱量



グラフ16・17の①・②には、なす・レタスのいずれかがあてはまり、グラフ中のY・Zは、図12・13中の同じ記号の県を示しています。 [] があてはまる () です。また、2つのグラフから、Y・Zで行われている農業の特徴について共通して読み取れることは、 [] という事です。

「レタス」「なす」も同じ!